

МИНИСТЕРСТВО ОБРАЗОВАНИЯ И НАУКИ РОССИЙСКОЙ ФЕДЕРАЦИИ

Федеральное государственное бюджетное образовательное учреждение высшего образования

«ТОМСКИЙ ГОСУДАРСТВЕННЫЙ УНИВЕРСИТЕТ СИСТЕМ
УПРАВЛЕНИЯ И РАДИОЭЛЕКТРОНИКИ»
(ТУСУР)



УТВЕРЖДАЮ

Директор департамента образования

Документ подписан электронной подписью

Сертификат: 1с6сfa0a-52a6-4f49-aef0-5584d3fd4820

Владелец: Троян Павел Ефимович

Действителен: с 19.01.2016 по 16.09.2019

РАБОЧАЯ ПРОГРАММА ДИСЦИПЛИНЫ

Электротехника, электроника и схемотехника

Уровень образования: **высшее образование - бакалавриат**

Направление подготовки / специальность: **09.03.01 Информатика и вычислительная техника**

Направленность (профиль) / специализация: **Программное обеспечение средств вычислительной техники и автоматизированных систем**

Форма обучения: **заочная (в том числе с применением дистанционных образовательных технологий)**

Факультет: **ФДО, Факультет дистанционного обучения**

Кафедра: **АСУ, Кафедра автоматизированных систем управления**

Курс: **3**

Семестр: **6**

Учебный план набора 2014 года

Распределение рабочего времени

№	Виды учебной деятельности	6 семестр	Всего	Единицы
1	Самостоятельная работа под руководством преподавателя	22	22	часов
2	Лабораторные работы	8	8	часов
3	Контроль самостоятельной работы	4	4	часов
4	Всего контактной работы	34	34	часов
5	Самостоятельная работа	209	209	часов
6	Всего (без экзамена)	243	243	часов
7	Подготовка и сдача экзамена	9	9	часов
8	Общая трудоемкость	252	252	часов
			7.0	З.Е.

Контрольные работы: 6 семестр - 2

Экзамен: 6 семестр

Томск 2018

ЛИСТ СОГЛАСОВАНИЯ

Рабочая программа дисциплины составлена с учетом требований федерального государственного образовательного стандарта высшего образования (ФГОС ВО) по направлению подготовки (специальности) 09.03.01 Информатика и вычислительная техника, утвержденного 12.01.2016 года, рассмотрена и одобрена на заседании кафедры ПрЭ «__» _____ 20__ года, протокол №_____.

Разработчик:

Старший преподаватель кафедра

ПрЭ

_____ В. Е. Коваленко

Заведующий обеспечивающей каф.

ПрЭ

_____ С. Г. Михальченко

Рабочая программа дисциплины согласована с факультетом и выпускающей кафедрой:

Декан ФДО

_____ И. П. Черкашина

Заведующий выпускающей каф.

АСУ

_____ А. М. Кориков

Эксперты:

Доцент кафедры технологий
электронного обучения (ТЭО)

_____ Ю. В. Морозова

Профессор кафедры
промышленной электроники (ПрЭ)

_____ Н. С. Легостаев

Доцент кафедры
автоматизированных систем
управления (АСУ)

_____ А. И. Исакова

1. Цели и задачи дисциплины

1.1. Цели дисциплины

Создать у студентов основу электротехнических знаний

Для формирования способности разрабатывать компоненты аппаратно-программных комплексов и баз данных.

1.2. Задачи дисциплины

- Способствовать созданию и развитию у студентов навыков расчёта и анализа линейных электрических цепей при различных режимах работы.
- Создать у студента способность формировать модели анализируемых цепей и протекающих в них процессов.
- Способствовать созданию у студентов знаний терминологии и символики в электротехнике и электронике, навыков работы с электроизмерительными приборами.
- Ознакомить со схемами некоторых устройств электротехники и электроники.

2. Место дисциплины в структуре ОПОП

Дисциплина «Электротехника, электроника и схемотехника» (Б1.В.ОД.4) относится к блоку 1 (вариативная часть).

Предшествующими дисциплинами, формирующими начальные знания, являются: Математика, Физика.

Последующими дисциплинами являются: Метрология, стандартизация и сертификация, Сети и телекоммуникации, Системы цифровой обработки сигналов.

3. Требования к результатам освоения дисциплины

Процесс изучения дисциплины направлен на формирование следующих компетенций:

- ОПК-5 способностью решать стандартные задачи профессиональной деятельности на основе информационной и библиографической культуры с применением информационно-коммуникационных технологий и с учетом основных требований информационной безопасности;
- ПК-3 способностью обосновывать принимаемые проектные решения, осуществлять постановку и выполнять эксперименты по проверке их корректности и эффективности;

В результате изучения дисциплины обучающийся должен:

- **знать** основные понятия и законы электромагнитного поля, электрические и магнитные цепи, цепи с взаимной индуктивностью, воздушного трансформатора, условные графические обозначения: полупроводниковых приборов, катушки индуктивности, конденсатора, резистора, трансформатора и др.
- **уметь** пользоваться электроизмерительными приборами для измерения параметров исследуемых цепей.
- **владеть** методами анализа цепей постоянных и переменных токов, практикой работы с электронными устройствами и измерительными приборами.

4. Объем дисциплины и виды учебной работы

Общая трудоемкость дисциплины составляет 7.0 зачетных единицы и представлена в таблице 4.1.

Таблица 4.1 – Трудоемкость дисциплины

Виды учебной деятельности	Всего часов	Семестры
		6 семестр
Контактная работа (всего)	34	34
Самостоятельная работа под руководством преподавателя (СРП)	22	22
Лабораторные работы	8	8
Контроль самостоятельной работы (КСР)	4	4

Самостоятельная работа (всего)	209	209
Подготовка к контрольным работам	33	33
Оформление отчетов по лабораторным работам	12	12
Подготовка к лабораторным работам	8	8
Самостоятельное изучение тем (вопросов) теоретической части курса	156	156
Всего (без экзамена)	243	243
Подготовка и сдача экзамена	9	9
Общая трудоемкость, ч	252	252
Зачетные Единицы	7.0	

5. Содержание дисциплины

5.1. Разделы дисциплины и виды занятий

Разделы дисциплины и виды занятий приведены в таблице 5.1.

Таблица 5.1 – Разделы дисциплины и виды занятий

Названия разделов дисциплины	СРП, ч	Лаб. раб., ч	КСР, ч	Сам. раб., ч	Всего часов (без экзамена)	Формируемые компетенции
6 семестр						
1 ЭЛЕКТРИЧЕСКИЕ И МАГНИТНЫЕ ЦЕПИ. ЗАКОНЫ ЦЕПЕЙ.	2	0	4	6	8	ОПК-5, ПК-3
2 МЕТОДЫ РАСЧЕТОВ СЛОЖНЫХ ЭЛЕКТРИЧЕСКИХ ЦЕПЕЙ	8	0		43	51	ОПК-5, ПК-3
3 ЛИНЕЙНЫЕ ЭЛЕКТРИЧЕСКИЕ ЦЕПИ ПРИ ГАРМОНИЧЕСКИХ ВОЗДЕЙСТВИЯХ.	8	4		58	70	ОПК-5, ПК-3
4 ТРЕХФАЗНЫЕ ЭЛЕКТРИЧЕСКИЕ ЦЕПИ И ИХ ХАРАКТЕРИСТИКИ.	0	0		16	16	ОПК-5, ПК-3
5 ВЗАИМОДЕЙСТВИЕ СИГНАЛОВ И ЦЕПЕЙ. МЕТОДЫ ЛИНЕЙНОЙ ТЕОРИИ.	4	0		58	62	ОПК-5, ПК-3
6 ФИЗИЧЕСКИЕ ОСНОВЫ ПОЛУПРОВОДНИКОВОЙ ЭЛЕКТРОНИКИ.	0	0		8	8	ОПК-5, ПК-3
7 ПОЛУПРОВОДНИКОВЫЕ ДИОДЫ.	0	4		8	12	ОПК-5, ПК-3
8 БИПОЛЯРНЫЕ И ПОЛЕВЫЕ ТРАНЗИСТОРЫ.	0	0		12	12	ОПК-5, ПК-3
Итого за семестр	22	8	4	209	243	
Итого	22	8	4	209	243	

5.2. Содержание разделов дисциплины (самостоятельная работа под руководством преподавателя)

Содержание разделов дисциплин (самостоятельная работа под руководством преподавателя) приведено в таблице 5.2.

Таблица 5.2 – Содержание разделов дисциплин (самостоятельная работа под руководством

преподавателя)

Названия разделов	Содержание разделов дисциплины (самостоятельная работа под руководством преподавателя)	Трудоемкость, ч	Формируемые компетенции
6 семестр			
1 ЭЛЕКТРИЧЕСКИЕ И МАГНИТНЫЕ ЦЕПИ. ЗАКОНЫ ЦЕПЕЙ.	Активные элементы электрических цепей. Основные понятия и законы электрических цепей.	2	ОПК-5, ПК-3
	Итого	2	
2 МЕТОДЫ РАСЧЕТОВ СЛОЖНЫХ ЭЛЕКТРИЧЕСКИХ ЦЕПЕЙ	Метод узловых потенциалов. Метод контурных токов.	8	ОПК-5, ПК-3
	Итого	8	
3 ЛИНЕЙНЫЕ ЭЛЕКТРИЧЕСКИЕ ЦЕПИ ПРИ ГАРМОНИЧЕСКИХ ВОЗДЕЙСТВИЯХ.	Законы Ома и Кирхгофа в комплексной форме для электрических цепей. Мощность в цепях гармонического тока. Условия согласования источника и нагрузки. Простейшие RL- и RC-цепи при гармоническом воздействии.	8	ОПК-5, ПК-3
	Итого	8	
5 ВЗАИМОДЕЙСТВИЕ СИГНАЛОВ И ЦЕПЕЙ. МЕТОДЫ ЛИНЕЙНОЙ ТЕОРИИ.	Постановка задачи. Классификация методов анализа. Классический метод расчета переходных процессов в линейных цепях.	4	ОПК-5, ПК-3
	Итого	4	
Итого за семестр		22	

5.3. Разделы дисциплины и междисциплинарные связи с обеспечивающими (предыдущими) и обеспечиваемыми (последующими) дисциплинами

Разделы дисциплины и междисциплинарные связи с обеспечивающими (предыдущими) и обеспечиваемыми (последующими) дисциплинами представлены в таблице 5.3.

Таблица 5.3 – Разделы дисциплины и междисциплинарные связи

Наименование дисциплин	№ разделов данной дисциплины, для которых необходимо изучение обеспечивающих и обеспечиваемых дисциплин							
	1	2	3	4	5	6	7	8
Предшествующие дисциплины								
1 Математика	+	+	+	+	+		+	
2 Физика	+	+	+	+	+	+	+	+
Последующие дисциплины								
1 Метрология, стандартизация и сертификация	+	+	+	+	+		+	
2 Сети и телекоммуникации	+	+	+	+		+	+	
3 Системы цифровой обработки сигналов		+	+		+		+	+

5.4. Соответствие компетенций, формируемых при изучении дисциплины, и видов занятий

Соответствие компетенций, формируемых при изучении дисциплины, и видов занятий представлено в таблице 5.4.

Таблица 5.4 – Соответствие компетенций, формируемых при изучении дисциплины, и видов занятий

Компетенции	Виды занятий				Формы контроля
	СРП	Лаб. раб.	КСР	Сам. раб.	
ОПК-5	+	+	+	+	Контрольная работа, Экзамен, Проверка контрольных работ, Отчет по лабораторной работе, Тест
ПК-3	+	+	+	+	Контрольная работа, Экзамен, Проверка контрольных работ, Отчет по лабораторной работе, Тест

6. Интерактивные методы и формы организации обучения

Не предусмотрено РУП.

7. Лабораторные работы

Наименование лабораторных работ приведено в таблице 7.1.

Таблица 7.1 – Наименование лабораторных работ

Названия разделов	Наименование лабораторных работ	Трудоемкость, ч	Формируемые компетенции
6 семестр			
3 ЛИНЕЙНЫЕ ЭЛЕКТРИЧЕСКИЕ ЦЕПИ ПРИ ГАРМОНИЧЕСКИХ ВОЗДЕЙСТВИЯХ.	Изучение частотных и временных свойств линейных цепей.	4	ОПК-5, ПК-3
	Итого	4	
7 ПОЛУПРОВОДНИКОВЫЕ ДИОДЫ.	Опытное определение параметров полупроводниковых приборов.	4	ОПК-5, ПК-3
	Итого	4	
Итого за семестр		8	

8. Контроль самостоятельной работы

Виды контроля самостоятельной работы приведены в таблице 8.1.

Таблица 8.1 – Виды контроля самостоятельной работы

№	Вид контроля самостоятельной работы	Трудоемкость (час.)	Формируемые компетенции
6 семестр			
1	Контрольная работа	2	ОПК-5, ПК-3
2	Контрольная работа	2	ОПК-5, ПК-3
Итого		4	

9. Самостоятельная работа

Виды самостоятельной работы, трудоемкость и формируемые компетенции представлены в таблице 9.1.

Таблица 9.1 – Виды самостоятельной работы, трудоемкость и формируемые компетенции

Названия разделов	Виды самостоятельной работы	Трудоемкость, ч	Формируемые компетенции	Формы контроля
6 семестр				
1 ЭЛЕКТРИЧЕСКИЕ И МАГНИТНЫЕ ЦЕПИ. ЗАКОНЫ ЦЕПЕЙ.	Подготовка к контрольным работам	6	ОПК-5, ПК-3	Контрольная работа, Тест, Экзамен
	Итого	6		
2 МЕТОДЫ РАСЧЕТОВ СЛОЖНЫХ ЭЛЕКТРИЧЕСКИХ ЦЕПЕЙ	Самостоятельное изучение тем (вопросов) теоретической части курса	34	ОПК-5, ПК-3	Контрольная работа, Тест, Экзамен
	Подготовка к контрольным работам	9		
	Итого	43		
3 ЛИНЕЙНЫЕ ЭЛЕКТРИЧЕСКИЕ ЦЕПИ ПРИ ГАРМОНИЧЕСКИХ ВОЗДЕЙСТВИЯХ.	Самостоятельное изучение тем (вопросов) теоретической части курса	40	ОПК-5, ПК-3	Контрольная работа, Отчет по лабораторной работе, Тест, Экзамен
	Подготовка к лабораторным работам	4		
	Оформление отчетов по лабораторным работам	6		
	Подготовка к контрольным работам	8		
	Итого	58		
4 ТРЕХФАЗНЫЕ ЭЛЕКТРИЧЕСКИЕ ЦЕПИ И ИХ ХАРАКТЕРИСТИКИ.	Самостоятельное изучение тем (вопросов) теоретической части курса	16	ОПК-5, ПК-3	Тест, Экзамен
	Итого	16		
5 ВЗАИМОДЕЙСТВИЕ СИГНАЛОВ И ЦЕПЕЙ. МЕТОДЫ ЛИНЕЙНОЙ ТЕОРИИ.	Самостоятельное изучение тем (вопросов) теоретической части курса	38	ОПК-5, ПК-3	Контрольная работа, Отчет по лабораторной работе, Тест, Экзамен
	Подготовка к лабораторным работам	4		
	Оформление отчетов по лабораторным работам	6		
	Подготовка к контрольным работам	10		
	Итого	58		
6 ФИЗИЧЕСКИЕ ОСНОВЫ ПОЛУПРОВОДНИКОВ	Самостоятельное изучение тем (вопросов) теоретической части	8	ОПК-5, ПК-3	Тест, Экзамен

КОВОЙ ЭЛЕКТРОНИКИ.	курса			
	Итого	8		
7 ПОЛУПРОВОДНИ КОВЫЕ ДИОДЫ.	Самостоятельное изучение тем (вопросов) теоретической части курса	8	ОПК-5, ПК-3	Тест, Экзамен
	Итого	8		
8 БИПОЛЯРНЫЕ И ПОЛЕВЫЕ ТРАНЗИСТОРЫ.	Самостоятельное изучение тем (вопросов) теоретической части курса	12	ОПК-5, ПК-3	Тест, Экзамен
	Итого	12		
	Выполнение контрольной работы	4	ОПК-5, ПК-3	Контрольная работа
Итого за семестр		209		
	Подготовка и сдача экзамена	9		Экзамен
Итого		218		

10. Контроль самостоятельной работы (курсовой проект / курсовая работа)
Не предусмотрено РУП.

11. Рейтинговая система для оценки успеваемости обучающихся
Рейтинговая система не используется.

12. Учебно-методическое и информационное обеспечение дисциплины

12.1. Основная литература

1. Шибает А. А. Электротехника и электроника [Электронный ресурс]: учебное пособие / А. А. Шибает. – Томск : ФДО. ТУСУР, 2016. – 199 с. Доступ из личного кабинета студента. — Режим доступа: <https://study.tusur.ru/study/library/> (дата обращения: 10.09.2018).

2. Шибает А. А. Схемо- и системотехника электронных средств [Электронный ресурс]: учебное пособие / А. А. Шибает. — Томск : Эль Контент, 2014. — 190 с. Доступ из личного кабинета студента. — Режим доступа: <https://study.tusur.ru/study/library> (дата обращения: 10.09.2018).

12.2. Дополнительная литература

1. Попов, В. П. Основы теории цепей. В 2 ч. Часть 1 [Электронный ресурс]: учебник для академического бакалавриата / В. П. Попов. — 7-е изд., пер. и доп. — М. : Издательство Юрайт, 2018. — 378 с. Доступ из личного кабинета студента. — Режим доступа: <https://biblio-online.ru/book/41E250C3-466E-4FB7-8F65-F4F1FB099C03>. (дата обращения: 10.09.2018).

2. Ляшев, В. А. Основы теории цепей. В 2 ч. Часть 2 [Электронный ресурс]: учебник для академического бакалавриата / В. А. Ляшев, Н. И. Мережин, В. П. Попов. — 7-е изд., пер. и доп. — М. : Издательство Юрайт, 2018. — 323 с. Доступ из личного кабинета студента. — Режим доступа: <https://biblio-online.ru/book/CA22257E-FBD5-43E3-BB21-2BFDDFD36CF1>. (дата обращения: 10.09.2018).

3. Миленина, С. А. Электротехника [Электронный ресурс]: учебник и практикум для СПО / С. А. Миленина ; под ред. Н. К. Миленина. — 2-е изд., пер. и доп. — М. : Издательство Юрайт, 2018. — 263 с. Доступ из личного кабинета студента. — Режим доступа: <https://biblio-online.ru/book/96AFBA22-D07A-402A-B40E-CDE4FB4F3815>. (дата обращения: 10.09.2018).

12.3. Учебно-методические пособия

12.3.1. Обязательные учебно-методические пособия

1. Шibaев А. А. Электротехника, электроника и схемотехника [Электронный ресурс]: учебное методическое пособие. — Томск: ФДО, ТУСУР, 2016. — 78 с. Доступ из личного кабинета студента. — Режим доступа: <https://study.tusur.ru/study/library/> (дата обращения: 10.09.2018).
2. Шibaев А.А. Электротехника и электроника: электронный курс / Шibaев А.А. – Томск: ТУСУР, ФДО, 2016. Доступ из личного кабинета студента.
3. Шibaев А.А. Электротехника и электроника [Электронный ресурс] [Электронный ресурс]: методические указания по организации самостоятельной работы для студентов заочной формы обучения направления подготовки 09.03.01 Информатика и вычислительная техника, обучающихся с применением дистанционных образовательных технологий /А.А.Шibaев, С.Г.Михальченко .– Томск : ФДО, ТУСУР, 2018. Доступ из личного кабинета студента. — Режим доступа: <https://study.tusur.ru/study/library/> (дата обращения: 10.09.2018).

12.3.2. Учебно-методические пособия для лиц с ограниченными возможностями здоровья и инвалидов

Учебно-методические материалы для самостоятельной и аудиторной работы обучающихся из числа лиц с ограниченными возможностями здоровья и инвалидов предоставляются в формах, адаптированных к ограничениям их здоровья и восприятия информации.

Для лиц с нарушениями зрения:

- в форме электронного документа;
- в печатной форме увеличенным шрифтом.

Для лиц с нарушениями слуха:

- в форме электронного документа;
- в печатной форме.

Для лиц с нарушениями опорно-двигательного аппарата:

- в форме электронного документа;
- в печатной форме.

12.4. Профессиональные базы данных и информационные справочные системы

1. <https://lib.tusur.ru/ru/resursy/bazy-dannyh> (свободный доступ);
2. <https://elibrary.ru/defaultx.asp> (свободный доступ);
3. ЭБС «Юрайт»: www.biblio-online.ru (доступ из личного кабинета студента по ссылке <https://biblio.fdo.tusur.ru/>).

13. Материально-техническое обеспечение дисциплины и требуемое программное обеспечение

13.1. Общие требования к материально-техническому и программному обеспечению дисциплины

13.1.1. Материально-техническое и программное обеспечение дисциплины

Кабинет для самостоятельной работы студентов
учебная аудитория для проведения занятий лабораторного типа, помещение для проведения групповых и индивидуальных консультаций, помещение для проведения текущего контроля и промежуточной аттестации, помещение для самостоятельной работы

634034, Томская область, г. Томск, Вершинина улица, д. 74, 207 ауд.

Описание имеющегося оборудования:

- Коммутатор MicroTeak;
- Компьютер PENTIUM D 945 (3 шт.);
- Компьютер GELERON D 331 (2 шт.);
- Комплект специализированной учебной мебели;
- Рабочее место преподавателя.

Программное обеспечение:

- 7-zip (с возможностью удаленного доступа)
- Google Chrome

- Kaspersky Endpoint Security 10 для Windows (с возможностью удаленного доступа)
- Microsoft Windows
- OpenOffice (с возможностью удаленного доступа)

Кабинет для самостоятельной работы студентов

учебная аудитория для проведения занятий лабораторного типа, помещение для проведения групповых и индивидуальных консультаций, помещение для проведения текущего контроля и промежуточной аттестации, помещение для самостоятельной работы

634034, Томская область, г. Томск, Вершинина улица, д. 74, 207 ауд.

Описание имеющегося оборудования:

- Коммутатор MicroTeak;
- Компьютер PENTIUM D 945 (3 шт.);
- Компьютер GELERON D 331 (2 шт.);
- Комплект специализированной учебной мебели;
- Рабочее место преподавателя.

Программное обеспечение:

- 7-zip (с возможностью удаленного доступа)
- Google Chrome
- Kaspersky Endpoint Security 10 для Windows (с возможностью удаленного доступа)
- Microsoft Windows
- OpenOffice (с возможностью удаленного доступа)

13.1.2. Материально-техническое и программное обеспечение для лабораторных работ

Кабинет для самостоятельной работы студентов

учебная аудитория для проведения занятий лабораторного типа, помещение для проведения групповых и индивидуальных консультаций, помещение для проведения текущего контроля и промежуточной аттестации, помещение для самостоятельной работы

634034, Томская область, г. Томск, Вершинина улица, д. 74, 207 ауд.

Описание имеющегося оборудования:

- Коммутатор MicroTeak;
- Компьютер PENTIUM D 945 (3 шт.);
- Компьютер GELERON D 331 (2 шт.);
- Комплект специализированной учебной мебели;
- Рабочее место преподавателя.

Программное обеспечение:

- 7-zip (с возможностью удаленного доступа)
- Google Chrome
- Kaspersky Endpoint Security 10 для Windows (с возможностью удаленного доступа)
- MicroCAP (с возможностью удаленного доступа)
- Microsoft Windows
- OpenOffice (с возможностью удаленного доступа)

13.1.3. Материально-техническое и программное обеспечение для самостоятельной работы

Для самостоятельной работы используются учебные аудитории (компьютерные классы), расположенные по адресам:

- 634050, Томская область, г. Томск, Ленина проспект, д. 40, 233 ауд.;
- 634045, Томская область, г. Томск, ул. Красноармейская, д. 146, 201 ауд.;
- 634034, Томская область, г. Томск, Вершинина улица, д. 47, 126 ауд.;
- 634034, Томская область, г. Томск, Вершинина улица, д. 74, 207 ауд.

Состав оборудования:

- учебная мебель;
- компьютеры класса не ниже ПЭВМ INTEL Celeron D336 2.8ГГц. - 5 шт.;

- компьютеры подключены к сети «Интернет» и обеспечивают доступ в электронную информационно-образовательную среду университета.

Перечень программного обеспечения:

- Microsoft Windows;
- OpenOffice;
- Kaspersky Endpoint Security 10 для Windows;
- 7-Zip;
- Google Chrome.

13.2. Материально-техническое обеспечение дисциплины для лиц с ограниченными возможностями здоровья и инвалидов

Освоение дисциплины лицами с ограниченными возможностями здоровья и инвалидами осуществляется с использованием средств обучения общего и специального назначения.

При занятиях с обучающимися с **нарушениями слуха** предусмотрено использование звукоусиливающей аппаратуры, мультимедийных средств и других технических средств приема/передачи учебной информации в доступных формах, мобильной системы преподавания для обучающихся с инвалидностью, портативной индукционной системы. Учебная аудитория, в которой занимаются обучающиеся с нарушением слуха, оборудована компьютерной техникой, аудиотехникой, видеотехникой, электронной доской, мультимедийной системой.

При занятиях с обучающимися с **нарушениями зрениями** предусмотрено использование в лекционных и учебных аудиториях возможности просмотра удаленных объектов (например, текста на доске или слайда на экране) при помощи видеомониторов для комфортного просмотра.

При занятиях с обучающимися с **нарушениями опорно-двигательного аппарата** используются альтернативные устройства ввода информации и другие технические средства приема/передачи учебной информации в доступных формах, мобильной системы обучения для людей с инвалидностью.

14. Оценочные материалы и методические рекомендации по организации изучения дисциплины

14.1. Содержание оценочных материалов и методические рекомендации

Для оценки степени сформированности и уровня освоения закрепленных за дисциплиной компетенций используются оценочные материалы в составе:

14.1.1. Тестовые задания

1. Найти полное комплексное сопротивление цепи состоящей из двух одинаковых параллельно включенных катушек индуктивностей. Если $X_L = 20 \text{ Ом}$ для одной катушки.

1. $-j10 \text{ Ом}$
2. 20 Ом
3. $j10 \text{ Ом}$
4. $j40 \text{ Ом}$

2. Второму закону Кирхгофа соответствует уравнение.

1. $\sum RI = \sum E$
2. $\sum RI^2 = \sum EI$
3. $\sum gU = J$
4. $\sum I = 0$

3. В схеме последовательно с источником гармонического ЭДС включён резистор и катушка индуктивности. Если активная мощность источника равна 20 Вт , а реактивная мощность источника равна 20 Вар . Найти полную мощность источника

1. 40 ВА
2. 20 ВА
3. 6,32 ВА
4. $20\sqrt{2}$ ВА

4. Определить полное сопротивление Z цепи состоящей из параллельно включённого резистора и катушки индуктивности. Если $R = 40$ Ом, $X_L = 30$ Ом.

1. $Z = 70$ Ом.
2. $Z = 17,14$ Ом.
3. $Z = 14,4$ Ом.
4. $Z = 24$ Ом.

5. Для линейно независимого узла цепи справедливо следующее определение.

1. Любой замкнутый участок цепи.
2. Часть цепи по которому протекает один и тот же ток.
3. Место соединения трёх и более ветвей.
4. Соединение трёх и более ветвей, в котором присутствует хотя бы одна новая

6. Два источника ЭДС соединены одинаковыми полюсами параллельно друг к другу. Если ЭДС E_1 больше ЭДС E_2 в каком режиме работают источнике электроэнергии?

1. E_1 - в режиме активного приемника; E_2 - в режиме генератора.
2. E_1 и E_2 в режиме генератора.
3. E_1 и E_2 в режиме активного приемника.
4. E_1 - в режиме генератора ; E_2 -в режиме активного приемника.

7. Для линейно независимого контура цепи справедливо следующее определение.

1. Любой замкнутый участок цепи.
2. Замкнутый участок цепи по которому протекает один и тот же ток.
3. Замкнутый участок цепи в котором присутствует хотя бы одна новая ветвь.
4. Соединение трёх и более ветвей, в котором присутствует хотя бы одна новая ветвь.

8. Определить полное Z и активное R сопротивления двухполюсника, если значение на выводах двухполюсника $U = 100$ В, $I = 5$ А, и сдвиг фаз между этим напряжением и током $\varphi = 60$ градусов. .

1. $Z = 17,32$ Ом; $R = 10$ Ом.
2. $Z = 20$ Ом; $R = 17,32$ Ом.
3. $Z = 10$ Ом; $R = 8,66$ Ом.
4. $Z = 20$ Ом; $R = 10$ Ом.

9. При напряжении $u(t) = 141,4 \sin(628 t + \pi/6)$ В, приложенного к выводам цепи с последовательно включённым резистор и катушкой индуктивности, и если $R = 6$ Ом, $X_L = 8$ Ом., определить действующее значение тока I , угол сдвига фаз между напряжением и током φ и значение индуктивности L .

1. $I = 14,14$ А; $\varphi = 53,13$ град. ; $L = 78,5$ Гн.
2. $I = 10$ А; $\varphi = 36,87$ град. ; $L = 95,54$ мГн.
3. $I = 10$ А; $\varphi = 1,33$ град.; $L = 0,2$ мГн.
4. $I = 10$ А; $\varphi = 53,13$ град. ; $L = 127,38$ мГн.

10. Синусоидальный ток изменяется по закону $i(t)=1.41 \sin(6280 t+45)$. Определить период T (с), действующее значение тока I (А).

1. $T = 0,002$ с, $I = 0.7$ А.
2. $T = 0,0025$ с, $I = 1.41$ А.
3. $T = 0,000159$ с, $I = 1$ А.
4. $T = 0,001$ с, $I = 1$ А.

11. Найти напряжение U на зажимах цепи состоящей из последовательно включённого резистора $R1$ к двум параллельно включенным резисторам $R2$ и $R3$. Если $R1= 5$ Ом, $R2=R3= 10$ Ом, $I3= 1$ А.

1. 15В
2. 10В
3. 20В
4. 5В

12. Чему равно внутреннее сопротивление $R_{вн}$. источника ЭДС E , если на сопротивление R подключённого к ЭДС падает напряжение U , а в цепи протекает ток I .

1. $R_{вн} = E / I$
2. $R_{вн} = U / I$
3. $R_{вн} = (E-U) / I$
4. $R_{вн} = (E+U) / I$

13. В схему параметрического стабилизатора, без усиления по току нагрузки входят следующие элементы:

1. Резистор, диод Шоттки, .
2. Резистор, биполярный транзистор.
3. Резистор, стабилитрон.
4. Резистор, тиристор.

14. Сколько выпрямительных диодов содержит схема мостового выпрямителя?

1. 1 выпрямительный диод.
2. 2 выпрямительных диода.
3. 4 выпрямительных диода.
4. 5 выпрямительных диодов.

15. Последовательно включены три резистора $R1$, $R2$, $R3$. Найти напряжение на $R2$, если $R1=4$ Ом, $R2= 5$ Ом, $R3=1$ Ом а на вход подано напряжение 50 В.

1. 50 В.
2. 25 В.
3. 5 В.
4. 20В.

16. Чему равна начальная фаза напряжения на катушки индуктивности если начальная фаза тока в индуктивности равна 60 градусов.

1. 60 градусов.
2. 150 градусов.
3. -30 градусов.
4. 90 градусов.

17. Чему равна начальная фаза тока в конденсаторе если начальная фаза напряжения на конденсаторе равна 30 градусов.

1. 60 градусов.
 2. 120 градусов.
 3. -60 градусов.
 4. -90 градусов.
-

18. Чему равна начальная фаза тока в резисторе если начальная фаза напряжения на резисторе равна 30 градусов.

1. 60 градусов.
 2. 120 градусов.
 3. -30 градусов.
 4. 30 градусов.
-

19. Если в схеме три узла и пять линейно независимых контура, каким методом целесообразно решать задачу определения токов в всех ветвях цепи.

1. По правилам Кирхгофа.
 2. Методом контурных токов.
 3. Методом узловых напряжений.
 4. Методом наложения.
-

20. Метод эквивалентного генератора применяется ...?

1. Для определения тока в одной ветви цепи при изменении параметров в других ветвях.
 2. Для определения токов в любой ветви.
 3. Для определения тока в одной ветви цепи при изменении её параметров
 4. Для определения параметров эквивалентного генератора.
-

14.1.2. Экзаменационные тесты

Приведены примеры типовых заданий из банка экзаменационных тестов, составленных по пройденным разделам дисциплины.

1. Два конденсатора соединены параллельно. Величины емкостей конденсаторов 20 мкФ и 30 мкФ. Определите величину эквивалентной емкости соединения в микрофарадах.

- 1) 60; 2) 12; 3) 10; 4) 50.

2. На какой частоте f по отношению к резонансной частоте цепи f_p реактивное сопротивление катушки индуктивности L меньше реактивного сопротивления конденсатора C ?

- 1) $f > f_p$; 2) $f < f_p$; 3) $f = f_p$.

3. Действующее значение напряжения источника и напряжения на резисторе с сопротивлением 1 Ом в цепи при резонансе равны 1 В, при этом на зажимах конденсатора действующее значение напряжения равно 50 В. Определите величину реактивного сопротивления катушки индуктивности в омах.

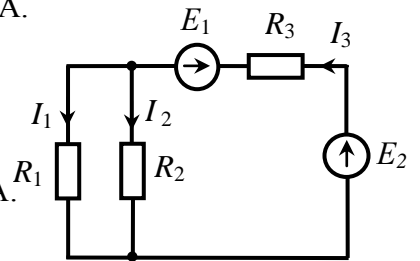
- 1) 50; 2) 31,4; 3) 25; 4) 62,8; 5) 70,7.

4. Определите величину тока через нагрузку $R_n = 200$ Ом при эдс реального источника постоянного напряжения $E = 20$ В, если известно, что при подключении нагрузки напряжение на ней снижается на 10%.

- 1) 0,09 А; 2) 0,667 А; 3) 0,045 А; 4) 0,1 А; 5) 0,05 А.

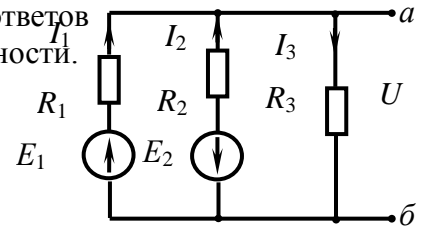
5. На рисунке изображена цепь постоянного тока. Величина э.д.с. E_1 равна 2 В. Источники имеют нулевое внутреннее сопротивление. Величины сопротивлений $R_1 = 200$ Ом, $R_2 = 100$ Ом, $R_3 = 50$ Ом. Определите величину эдс E_2 , если ток через резистор R_1 равен 20 мА.

- 1) 7 В; 2) 9 В; 3) 4,5 В; 4) 3,5 В; 5) 10,5 В.

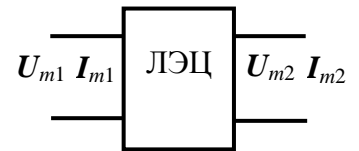


6. В цепи постоянного тока $R_1=5$ Ом, $R_2=5$ Ом, $R_3=4$ Ом, $E_1=5$ В, $E_2=10$ В. Найти величины токов I_1, I_2, I_3 и указать верную позицию ответа. В вариантах ответов величины токов в амперах указаны в той же последовательности. Знаки токов указывают их реальное направление в ветви.

- 1) 1,308; - 1,692; - 0,385;
 2) 0,577; - 1,692; - 1,154;
 3) - 1,0; 2,0; 1,0;
 4) 0,144; 2,144; 2,288.



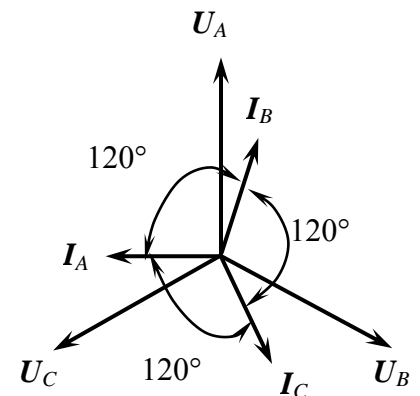
7. На рисунке показаны обозначения комплексных амплитуд токов и напряжений на входе и выходе четырехполюсной линейной электрической цепи. Такая цепь описывается двумя видами комплексных функций – входными и передаточными, которые имеют различный смысл и различные физические размерности: сопротивления, проводимости, безразмерные. Из вариантов ответов выберите тот, где указан правильный смысл комплексной функции.



- 1) $y_{\text{вых}} = \frac{I_{m2}}{U_{m2}}$ - комплексная выходная проводимость;
 2) $z_{12} = \frac{U_{m1}}{I_{m2}}$ - комплексное входное сопротивление цепи;
 3) $K_{U \text{ обр}} = \frac{U_{m1}}{U_{m2}}$ - комплексная обратная передаточная функция цепи;
 4) $K_{I \text{ обр}} = \frac{I_{m2}}{I_{m1}}$ - комплексное выходное сопротивление цепи.

8. На векторной диаграмме показаны векторы фазных токов (I_A, I_B, I_C) и напряжений (U_A, U_B, U_C) в симметричной трехфазной цепи «звезда-звезда». Какой нагрузке соответствует векторная диаграмма?

- 1) чисто индуктивная;
 2) резистивно-индуктивная;
 3) чисто емкостная;
 4) резистивно-емкостная.

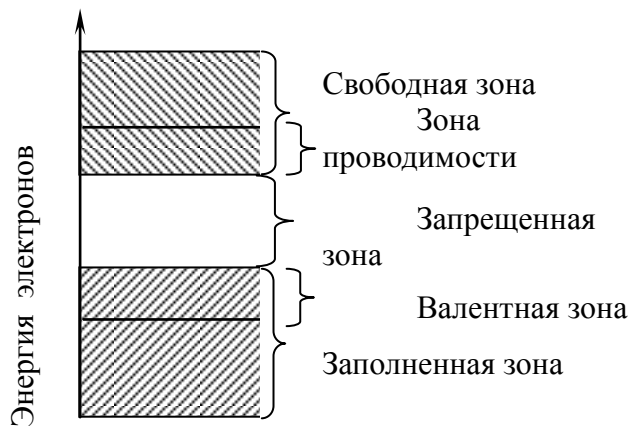


9. Коммутация в электрической цепи вызывается мгновенным увеличением величины индуктивности катушки. Как изменяются величина тока и напряжение на зажимах катушки через мгновение после момента коммутации:

- 1) величина тока через катушку и напряжение на катушке мгновенно не изменяются;
 2) величина тока мгновенно изменяется, напряжение на катушке не изменяется;
 3) величина тока не изменяется, напряжение на катушке мгновенно изменяется;
 4) величина тока через катушку и напряжение на катушке изменяются мгновенно.

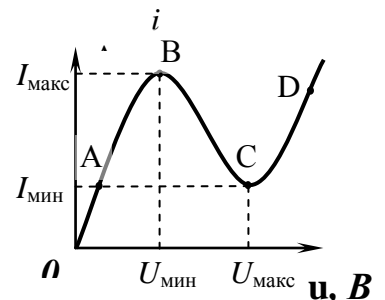
10. На рисунке приведена диаграмма энергетических зон твердого тела. Укажите ширину запрещенной зоны для полупроводника в электрон-вольтах.

- 1) более 3 эВ;
- 2) от 0,1 до 3,0 эВ;
- 3) отсутствует.



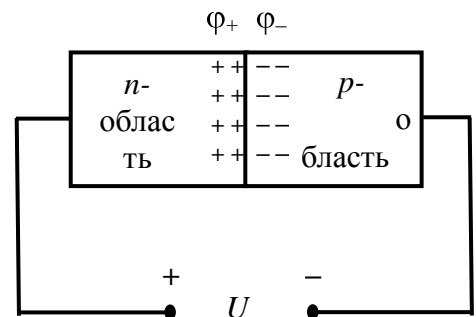
11. Назовите полупроводниковый прибор, которому принадлежит приведенная на рисунке вольтамперная характеристика.

- 1) туннельный диод;
- 2) стабилитрон;
- 3) светодиод;
- 4) тиристор с управлением по аноду;
- 5) варикап.



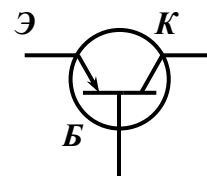
12. Резистор является элементом цепи гармонического тока; $i(t)$ и $u(t)$ – мгновенные значения тока через резистор и напряжения на зажимах резистора. Назовите верные фазовые соотношения между током и напряжением:

- 1) ток и напряжение совпадают по фазе;
- 2) ток и напряжение находятся в противофазе;
- 3) фаза тока отстает от фазы напряжения на 90 градусов;
- 4) фаза тока опережает фазу напряжения на 90 градусов



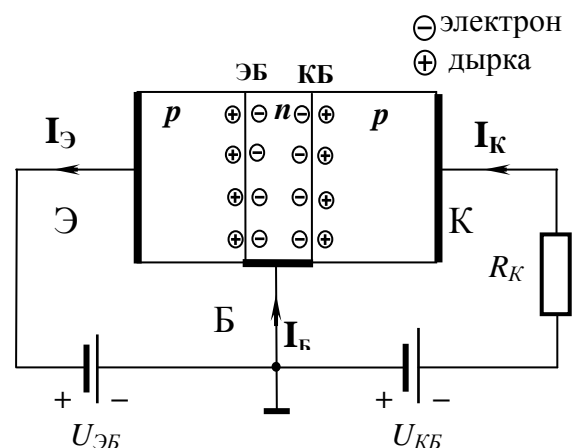
13. Какой полупроводниковый прибор имеет приведенное на рисунке условное графическое обозначение?

- 1) биполярный транзистор с изолированным затвором;
- 2) полевой транзистор с управляющим переходом;
- 3) полевой транзистор с изолированным затвором;
- 4) биполярный $n-p-n$ -транзистор;
- 5) биполярный $p-n-p$ -транзистор.

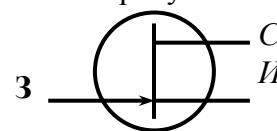


14. Укажите, какому режиму работы биполярного транзистора $p-n-p$ -типа соответствует поляризация источников $U_{ЭБ}$ и $U_{КБ}$ на данном рисунке

- 1) активному;
- 2) насыщения;
- 3) отсечки.

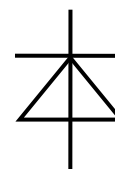


15. Назовите полупроводниковый прибор, которому принадлежит приведенное на рисунке условное графическое обозначение.



- 1) полевой транзистор с изолированным затвором с встроенным каналом p -типа;
- 2) полевой транзистор с изолированным затвором с встроенным каналом n -типа;
- 3) полевой транзистор с управляющим p - n -переходом с каналом p -типа;
- 4) полевой транзистор с изолированным затвором с индуцированным каналом n -типа;
- 5) полевой транзистор с управляющим p - n -переходом с каналом n -типа;
- 6) полевой транзистор с изолированным затвором с индуцированным каналом p -типа.

16. Назовите полупроводниковый прибор, которому принадлежит приведенное на рисунке условное графическое обозначение.



- 1) туннельный диод;
- 2) стабилитрон;
- 3) светодиод;
- 4) тиристор с управлением по аноду;
- 5) варикап.

17. К полупроводниковому переходу приложено внешнее постоянное напряжение. Как изменяется величина потенциального барьера $\phi_+ - \phi_-$ при указанной полярности внешнего напряжения? Выберите верное суждение.

- 1) высота потенциального барьера увеличится;
- 2) высота потенциального барьера уменьшится;
- 3) высота потенциального барьера останется без изменения.

18. Какие явления возникают в электрической цепи, содержащей реактивные элементы при мгновенном изменении частоты источника гармонического колебания, действующего в цепи? (при этом амплитуда колебания источника не изменяется)

- 1) в цепи возникает переходный процесс;
- 2) переходного процесса в цепи не возникает;
- 3) частота колебаний в цепи плавно изменяется до нового значения.

19. Укажите верное представление гармонической функции $i(t) = I_m \cos(\Omega t + \Psi_0)$ ее комплексной амплитудой, если действующее значение тока равно 15 мА, частота равна 100 кГц, начальная фаза равна 50° .

- 1) $I_m = 21,2 e^{j50^\circ}$, (мА);
- 2) $I_m = 15 e^{j50^\circ}$, (мА);
- 3) $I_m = \cos 21,2 e^{j50^\circ}$, (мА);
- 4) $I_m = 15 (\cos 50^\circ + j \sin 50^\circ)$, мА.

20. Сложная электрическая цепь содержит 9 узлов и 12 ветвей. Сколько уравнений необходимо составить по первому (N_I) и второму (N_{II}) законам Кирхгофа, чтобы рассчитать токи всех ветвей?

- 1) $N_I = 8, N_{II} = 4$; 2) $N_I = 7, N_{II} = 5$; 3) $N_I = 9, N_{II} = 3$; 4) $N_I = 10, N_{II} = 2$.

14.1.3. Темы контрольных работ

Расчет линейных электрических цепях гармонического напряжения.

Расчет переходных процессов в линейных электрических цепях.

Расчёт цепей с взаимной индуктивностью.

14.1.4. Темы лабораторных работ

Лабораторная работа № 1 «Изучение частотных и временных свойств линейных цепей»

Лабораторная работа № 2 «Опытное определение параметров полупроводниковых приборов»

14.1.5. Методические рекомендации

Учебный материал излагается в форме, предполагающей самостоятельное мышление студентов, самообразование. При этом самостоятельная работа студентов играет решающую роль в ходе всего учебного процесса.

Начать изучение дисциплины необходимо со знакомства с рабочей программой, списком учебно-методического и программного обеспечения. Самостоятельная работа студента включает работу с учебными материалами, выполнение контрольных мероприятий, предусмотренных учебным планом.

В процессе изучения дисциплины для лучшего освоения материала необходимо регулярно обращаться к рекомендуемой литературе и источникам, указанным в учебных материалах; пользоваться через кабинет студента на сайте Университета образовательными ресурсами электронно-библиотечной системы, а также общедоступными интернет-порталами, содержащими научно-популярные и специализированные материалы, посвященные различным аспектам учебной дисциплины.

При самостоятельном изучении тем следуйте рекомендациям:

- чтение или просмотр материала необходимо осуществлять медленно, выделяя основные идеи; на основании изученного составить тезисы. Освоив материал, попытаться соотнести теорию с примерами из практики;

- если в тексте встречаются термины, следует выяснить их значение для понимания дальнейшего материала;

- необходимо осмысливать прочитанное и изученное, отвечать на предложенные вопросы.

Студенты могут получать индивидуальные консультации с использованием средств телекоммуникации.

По дисциплине могут проводиться дополнительные занятия в форме вебинаров. Расписание вебинаров публикуется в кабинете студента на сайте Университета. Запись вебинара публикуется в электронном курсе по дисциплине.

14.2. Требования к оценочным материалам для лиц с ограниченными возможностями здоровья и инвалидов

Для лиц с ограниченными возможностями здоровья и инвалидов предусмотрены дополнительные оценочные материалы, перечень которых указан в таблице 14.

Таблица 14 – Дополнительные материалы оценивания для лиц с ограниченными возможностями здоровья и инвалидов

Категории обучающихся	Виды дополнительных оценочных материалов	Формы контроля и оценки результатов обучения
С нарушениями слуха	Тесты, письменные самостоятельные работы, вопросы к зачету, контрольные работы	Преимущественно письменная проверка
С нарушениями зрения	Собеседование по вопросам к зачету, опрос по терминам	Преимущественно устная проверка (индивидуально)
С нарушениями опорно-двигательного аппарата	Решение дистанционных тестов, контрольные работы, письменные самостоятельные работы, вопросы к зачету	Преимущественно дистанционными методами
С ограничениями по общемедицинским показаниям	Тесты, письменные самостоятельные работы, вопросы к зачету, контрольные работы, устные ответы	Преимущественно проверка методами исходя из состояния обучающегося на момент проверки

14.3. Методические рекомендации по оценочным материалам для лиц с ограниченными возможностями здоровья и инвалидов

Для лиц с ограниченными возможностями здоровья и инвалидов предусматривается доступная форма предоставления заданий оценочных средств, а именно:

- в печатной форме;
- в печатной форме с увеличенным шрифтом;
- в форме электронного документа;
- методом чтения ассистентом задания вслух;
- предоставление задания с использованием сурдоперевода.

Лицам с ограниченными возможностями здоровья и инвалидам увеличивается время на подготовку ответов на контрольные вопросы. Для таких обучающихся предусматривается доступная форма предоставления ответов на задания, а именно:

- письменно на бумаге;
- набор ответов на компьютере;
- набор ответов с использованием услуг ассистента;
- представление ответов устно.

Процедура оценивания результатов обучения лиц с ограниченными возможностями здоровья и инвалидов по дисциплине предусматривает предоставление информации в формах, адаптированных к ограничениям их здоровья и восприятия информации:

Для лиц с нарушениями зрения:

- в форме электронного документа;
- в печатной форме увеличенным шрифтом.

Для лиц с нарушениями слуха:

- в форме электронного документа;
- в печатной форме.

Для лиц с нарушениями опорно-двигательного аппарата:

- в форме электронного документа;
- в печатной форме.

При необходимости для лиц с ограниченными возможностями здоровья и инвалидов процедура оценивания результатов обучения может проводиться в несколько этапов.